

# 看動畫學數學


引導解題有步驟，加深解題概念！

立即體驗：<https://tinyurl.com/2s3b9p9y>



2 黑面琵鷺是瀕臨絕種的水鳥，每年10月從北方飛來臺灣過冬。

1 2000隻黑面琵鷺再飛來356隻，共有幾隻？




2000和356合起來是2356，讀作「二千三百五十六」。

讀作「二千三百五十六」

1 糕餅店賣糕餅，1盒可裝8個。

3 姐姐說：「蓮蓉酥和紅豆酥我各買了4個。」姐姐共要付幾元？



$$\begin{aligned} 35 \times 4 &= 140 \\ 25 \times 4 &= 100 \\ 140 + 100 &= 240 \end{aligned}$$

答：240元

這是蓮蓉酥、紅豆酥各買1個的錢

2 找出角，再比一比角的大小。


3 用描圖紙描出咕咕鐘屋頂的角，再比一比哪個角比较大？



要先對齊兩個角的頂點

2 這是一條數線，看圖回答問題。

1 螞蟻從位置0往右走4格，會走到位置多少？



螞蟻往右走6格會到位置6

## ▲ 3上CH1\_例題步驟解題

搭配教材例題的步驟解題動畫圖像、動態引導，解題有步驟，加深解題概念！透過兔子老師講解與動態演示，培養解題思維！課前預習、課後複習都好用！

類別 網站

相容性 Google Chrome 60以上、Edge、Safari 11以上、Firefox 48以上

適用學制 國小

適用科目 數學

翰林出版